











## PAAT\_图形化编程初级2练习题三

(考试时间 60 分钟; 满分 100 分)

一、单项选择题 (每题3.5分, 共20题, 共70分)

1. 从角色库中添加“Apple”角色, 把一个“Apple”变成如下图所示的图形, 需要在图形编辑器中进行什么操作? ( )



- A.  复制  粘贴  删除
- B.  复制  粘贴 
- C.  复制
- D.  复制  粘贴

2. 完整地播放两次小猫的叫声, 以下哪个选项不能实现? ( )

- A. 
- B. 



3. 下面哪个积木可以停止正在播放的声音？（ ）



4. 运行下列程序后音调音效为？（ ）



- A. 10
- B. 20
- C. 30
- D. 40

5. 默认小猫角色，点击绿旗后，小猫面向什么方向？（ ）



- A. 75
- B. 90
- C. 105
- D. 120

6. 小明初始位置在舞台中心，运行下列程序，小明走过的图形是？（ ）



- A. 三角形
- B. 正方形
- C. 长方形
- D. 正五边形

7. 下列哪项操作能把作品保存起来？（ ）



- A. 点击【保存到电脑】选项
- B. 点击【从电脑中上传】选项
- C. 点击【新作品】选项
- D. 点击地球图标

8. 下面关于造型和背景的说法错误的是？（ ）

- A. 角色可以有很多个造型，舞台可以有很多个背景。
- B. 可以在角色程序中切换背景。
- C. 在舞台程序中，不能切换角色造型。
- D. 只能从本地上传角色，不能从本地上传背景。

9. 使用下列哪个积木，能够最快捷地让小猫面向老鼠？（ ）



- A. 
- B. 
- C. 
- D. 

10. 天天制作一个“自我介绍”的作品，他设计的流程是小人先移动100步，然后换成面向观众的造型，最后说：“大家好，我叫天天！”，应该把下列程序修改成哪个选项？（ ）



A.



B.



C.



D.



。

11. 要给“古诗朗诵”作品录制配音，可以使用下列哪个按钮？（ ）

- A. 
- B. 
- C. 
- D. 

12. 舞台背景没有下列哪一类积木？（ ）

- A. 外观类积木
- B. 事件类积木
- C. 运动类积木
- D. 控制类积木

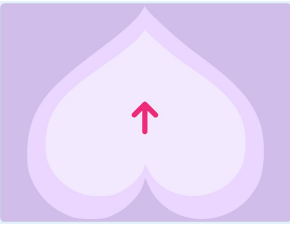



13. 铅笔能够以笔尖为中心进行旋转，那么它的中心点应设置在？（ ）



- A. 任意位置
- B. 笔杆中间位置
- C. 笔尾位置
- D. 笔尖位置

14. 初始造型和背景如下图所示，点击一次箭头后，舞台上显示？（ ）



- A. 
- B. 
- C. 
- D. 

15. 声音的波形如下图所示，当点击“反转”按钮后，声音的波形会变成？（ ）



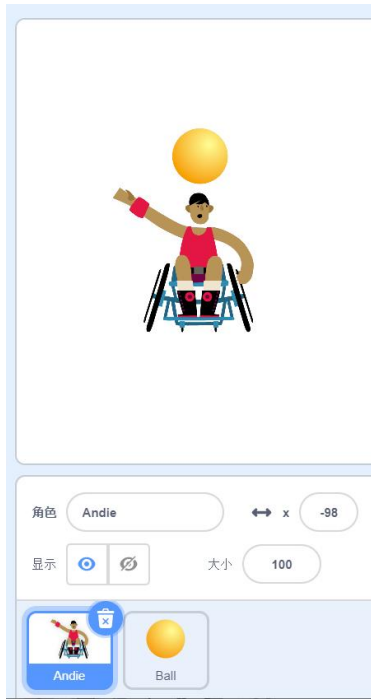
- A.
- B.
- C.
- D.

16. 观察下图，想一想，苹果、桃子、梨分别是什么数字？（ ）

$$\text{🍏} + \text{🍑} = 10 \quad \text{🍏} + \text{🍏} = 12 \quad \text{🍏} - \text{🍑} = \text{🍐}$$

- A. 苹果=6，桃子=5，梨=1
- B. 苹果=5，桃子=5，梨=1
- C. 苹果=6，桃子=4，梨=2
- D. 苹果=6，桃子=3，梨=3

17. 如下图所示，舞台上“Andie”和“Ball”两个角色，下面哪个程序能让角色“Andie”的右手碰到黄色的小球？（ ）



A.



B.



C.





D.

18. 执行下列程序，小球的造型为？（ ）



- A. 造型1
- B. 造型2
- C. 造型3
- D. 造型4

19. 下列哪项操作能把作品保存起来？（ ）



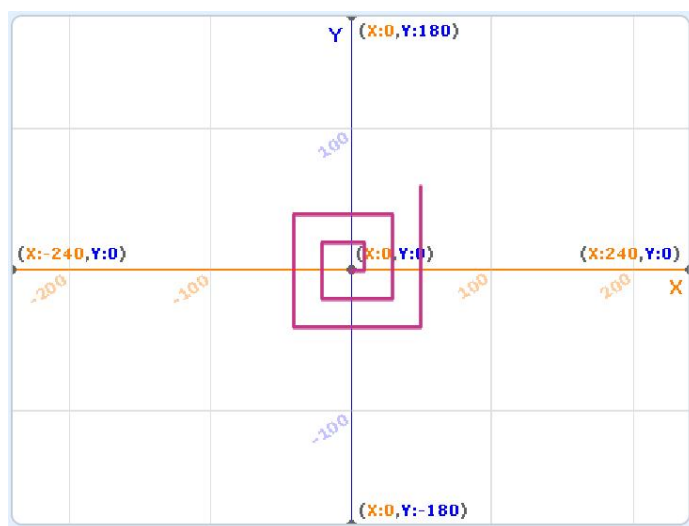
- A. 点击【保存到电脑】选项
- B. 点击【从电脑中上传】选项
- C. 点击【新作品】选项
- D. 点击地球图标

20. 天天收到了一个语音机器人，当天天说“a”的时候，机器人会说“apple”，当天天说“b”的时候，机器人会说“banana”，当天天说“c”的时候，机器人会说“cat”，如果天天说其它内容，机器人就会说“I don't know”。机器人可以识别一连串字母，并按顺序说出对应的单词，比如天天说“abc”，机器人会说“apple banana cat”。请问天天说“dcbba”的时候，机器人会说什么呢？（ ）

- A. cat cat banana banana apple
- B. cat banana banana apple I don't know
- C. I don't know cat banana apple
- D. I don't know cat banana banana apple

二、编程题（共2题，每题15分，共30分）

21. 默认小猫角色，执行下面程序后，画出如右图所示的图案，编写程序，解决以下问题：



- ①初始值，移到x/y的坐标为 0 和 0 ；
- ②重复执行的次数为 10 。

22. 小明设计了一个计算程序，计算1~100中能被3整除的数字，并说出被3整除的数之和。编写程序，解决以下问题：



①重复执行直到指令中,  $a >$  的数字为 100 ；

②分支结构中,  $a$  除以3的余数等于 0 时候, 条件为真。